



IMIĘ I NAZWISKO:

DATA:

Zadanie 1.

W tabeli poniżej znajduje się lista przykładowych zakupów. Określ typ opakowania, w który zapakowany jest dany produkt.

| Lp. | Przykładowy produkt | Typ opakowania | |
|-----|--|----------------|--|
| 1. | <i>mleko UHT w kartoniku</i> | | |
| 2. | <i>3 jogurty naturalne</i> | | |
| 3. | <i>1 chleb</i> | | |
| 4. | <i>1 masło</i> | | |
| 5. | <i>1 kg mąki</i> | | |
| 6. | <i>1 l octu</i> | | |
| 7. | <i>zgrzewka wody mineralnej 6 szt.</i> | | |
| 8. | <i>napój gazowany w puszcze</i> | | |
| 9. | <i>2 kg truskawek w tubiance</i> | | |
| 10. | <i>5 kg ziemniaków</i> | | |
| 11. | <i>czekoladowy batonik</i> | | |
| 12. | <i>2 kg proszku do prania</i> | | |
| 13. | <i>1 pasta do zębów</i> | | |
| 14. | <i>1 szampon do włosów</i> | | |

W pustej kolumnie:

- ! postaw „wykrzyknik” przy opakowaniach wielokrotnego użytku
- ✘ postaw „krzyżyk” przy opakowaniach wielomateriałowych
- postaw „kółeczko” przy opakowaniach nadających się do recyklingu

Zadanie 2.

Uzupełnij miejsca kropek odpowiednimi wyrazami z ramki.

- folia aluminiowa gruby papier folia z polietylenu

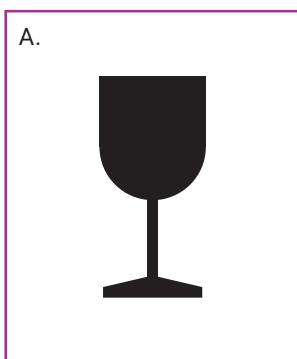


Skład tetrapaku:

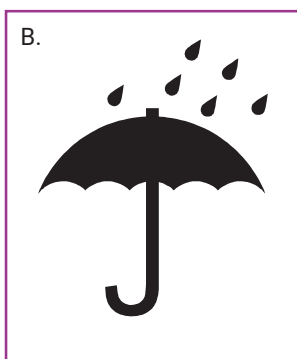
- 75-85%
- 10-20%
- 5%

Zadanie 3.

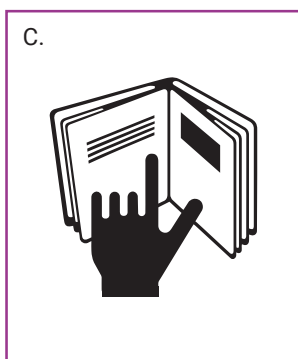
Zastanów się, a następnie wyjaśnij, co oznaczają następujące znaki pojawiające się na opakowaniach.




.....
.....




.....
.....



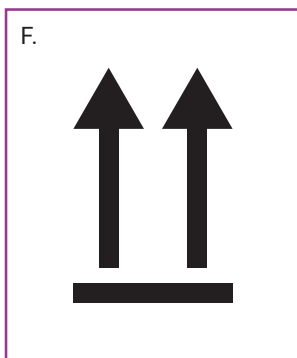
.....
.....



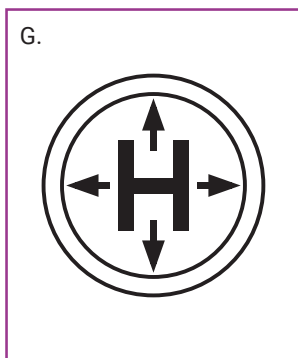
.....
.....




.....
.....



.....
.....



.....
.....



.....
.....