

Karta pracy *Domowe urządzenia elektryczne*

imię i nazwisko	
_____	_____
klasa	data

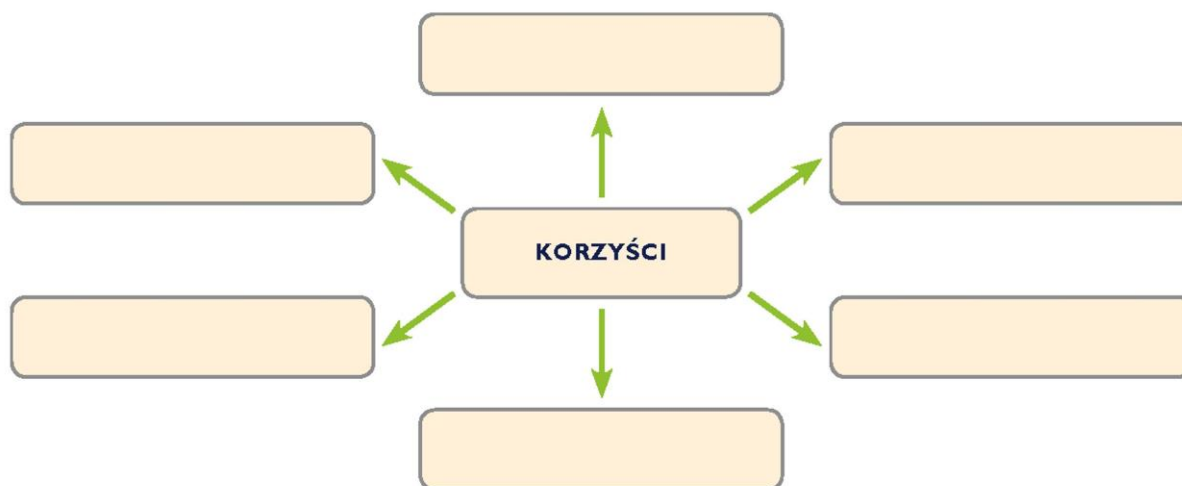
1. Wybierz właściwą odpowiedź.

Na ilustracji przedstawiono

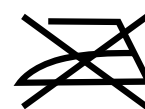

- A. tabliczkę znamionową.
- B. kartę gwarancyjną.
- C. etykietę energetyczną.
- D. instrukcję obsługi.



2. Uzupełnij schemat - wpisz w puste pola korzyści płynące z wynaleźnia pralki automatycznej i pralkosuszarki.



3. Połącz symbole z nazwami.



Nie prasować

Prać ręcznie

Suszyć w suszarce